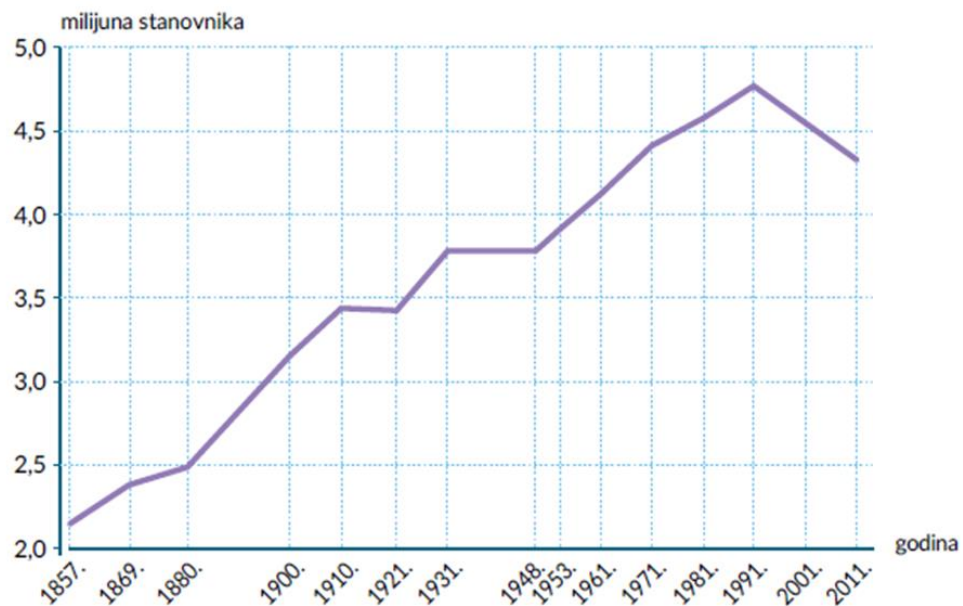


STANOVNIŠTVO-ponavljanje

PRVIH DEVET ZADATAKA RIJEŠI UZ POMOĆ PRILOŽENIH LINIJSKIH DIJAGRAMA KRETANJA BROJA STANOVNIKA U SVIJETU I HRVATSKOJ.

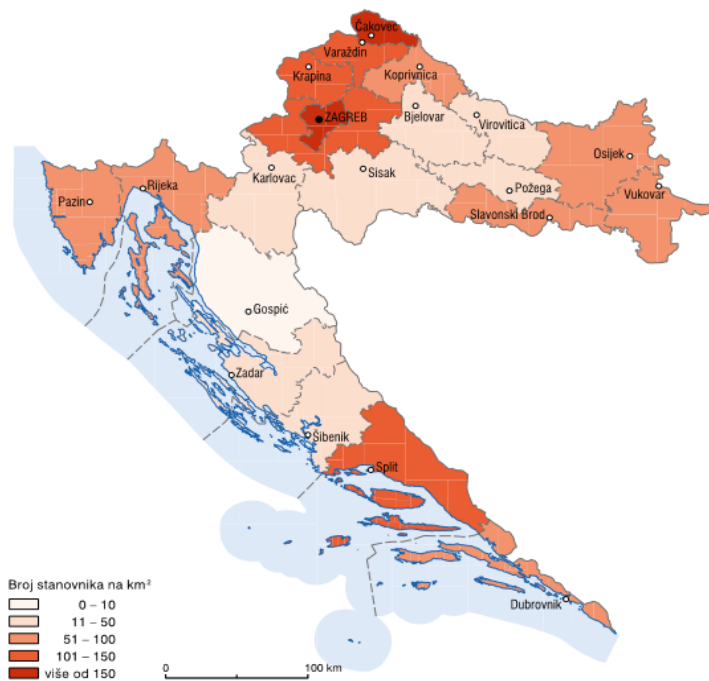


1. U kojem stoljeću je broj stanovnika svijeta počeo naglo rasti?
2. Navedi i objasni uzroke takvog brzog porasta broja stanovnika.
3. Koliko stanovnika je živjelo na Zemlji 1950. godine, a koliko će stanovnika prema procjenama živjeti na Zemlji 2025. godine?
4. S kojim će se problemima suočiti stanovništvo svijeta ukoliko se porast broja stanovnika nastavi?



5. Koliko je stanovnika živjelo u Hrvatskoj u vrijeme prvog popisa stanovništva?
6. Koliko je stanovnika živjelo u Hrvatskoj u vrijeme posljednjeg popisa stanovništva?
7. Za koliko se povećao broj stanovnika Hrvatske od prvog do posljednjeg popisa stanovnika?
8. Navedi razloge takvog kretanja broja stanovnika.
9. Navedi međupopisna razdoblja smanjenja broja stanovnika. Za svako međupopisno razdoblje navedi uzroke smanjenja broja stanovnika.

SLJEDEĆA TRI ZADATAKA RIJEŠI UZ POMOĆ PRILOŽENE TEMATSKE KARTE PROSTORNOG RAZMJETAJA STANOVNIŠTVA HRVATSKE 2011.



△ Prostorni razmještaj stanovništva 2011. godine (stan./km²)

Izvor: www.dsz.hr, Popis stanovništva Republike Hrvatske 2011.

10. Imena dviju najgušće naseljenih županija Hrvatske su _____ i _____ županija.

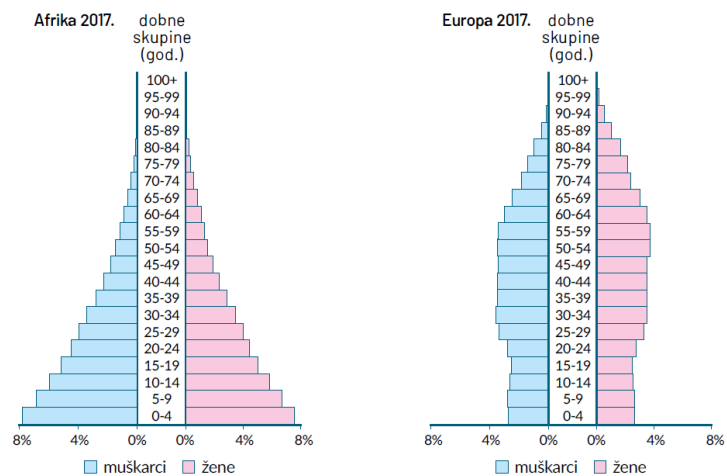
11. Ime najrijeđe naseljene prirodno-geografske cjeline Hrvatske je _____ Hrvatska.

12. Navedi i objasni barem tri uzroka rijetke naseljenosti prirodno-geografske cjeline navedene u prethodnom zadatku.

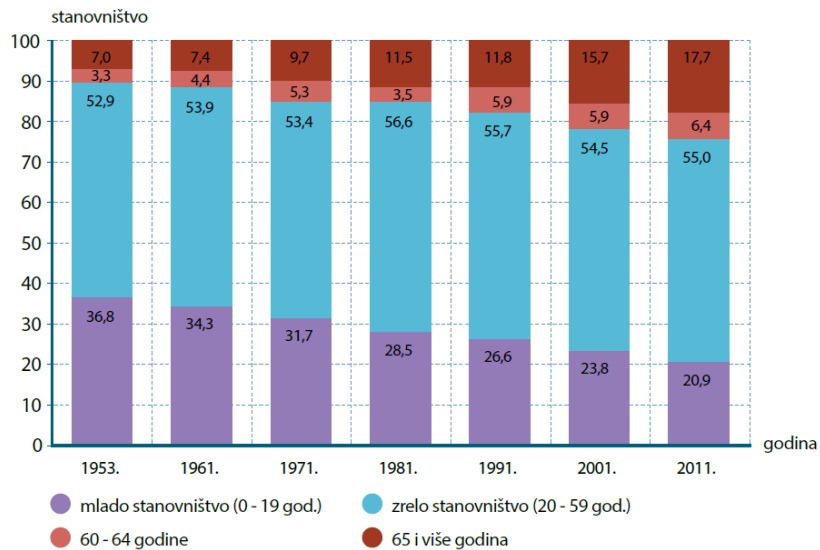
13. Izračunaj gustoću naseljenosti svoje županije. Koristi se podacima Popisa stanovništva 2011. iz radne bilježnice str. 71.

14. Tvoja županija je **gušće/rijeđe** naseljena od prosjeka za Republiku Hrvatsku. (zaokruži jedan od podebljanih pojmova)

SLJEDEĆA ČETIRI ZADATKA RIJEŠI UZ POMOĆ PRILOŽENIH GRAFIKONA.



15. Kojem od navedenih kontinenata prijete opasnost nedostatka radne snage? Objasni svoj odgovor.



16. Udio koje dobne skupine u Hrvatskoj se najviše smanjio od 1953. do 2011. godine?

17. Koje dobne skupine ima najviše?

18. Objasni kako će se takva dobna struktura utjecati na daljni gospodarski razvoj Hrvatske.

SLJEDEĆA TRI ZADATKA RIJEŠI UZ POMOĆ PODATAKA U PRILOŽENOJ TABLICI.

DRŽAVE	Angola (2014.)	Kanada (2017.)	Hrvatska (2018.)
Stope rodnosti (‰)	44.5	10.3	9.0
Stope smrtnosti (‰)	33.5	2.7	12.
Prirodna promjena (‰)			

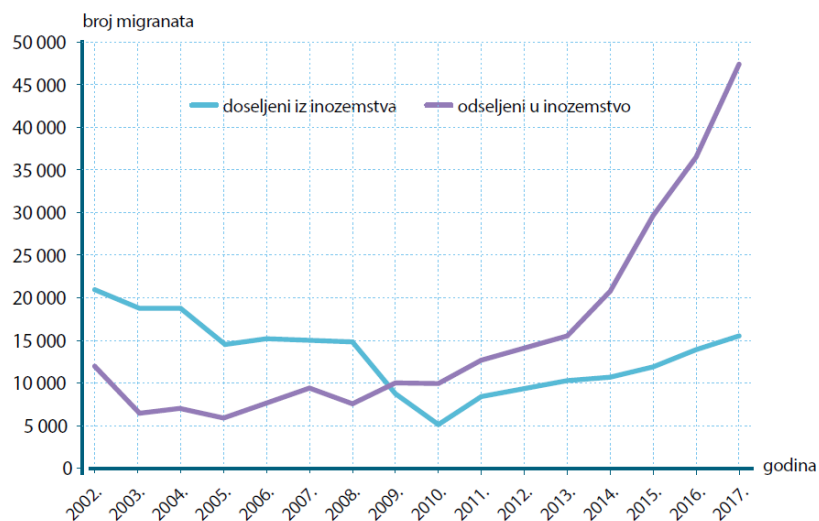
Izvor: <https://unstats.un.org/unsd/demographic-social/products/dyb/dybssets/2018.pdf>

19. Izračunaj stopu prirodne promjene za sve tri države. Rezultat upiši u tablicu.

20. Koja od navedenih država ima prirodni pad? Objasni odgovor.

21. Navedi i objasni uzroke prirodnog pada države imenovane u prethodnom zadatku.

SLJEDEĆA DVA ZADATKA RIJEŠI U POMOĆ PRILOŽENOG GRAFIKONA BROJA DOSELJENIH I ODESELJENIH IZ HRVATSKE.



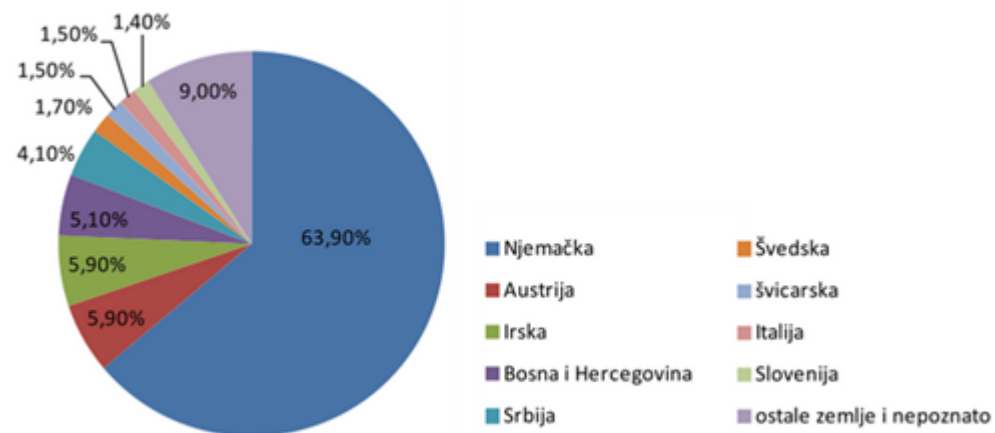
22. Od koje je godine u Hrvatskoj broj odseljenih veći od

useljenih?

23. Navedi dva razloga zbog kojih se stanovništvo iseljava iz

Hrvatske.

Kružnim dijagramom prikazano je iseljavanje hrvatskih državljana u 2017. prema zemlji odseljenja (u %).



Iseljavanje hrvatskih državljana u 2017. prema zemlji odseljenja (u %) (47 352 = 100 %)

Izvor: dsz.hr

24. U koju se državu 2017. odselilo najviše Hrvata?

25. Koji je glavni razlog zašto se danas stanovništvo iseljava iz Hrvatske?

26. Odredi kojoj vrsti migracija prema doseg, trajnosti, uzroku i prema voljnosti pripada sljedeća migracija.

Marko je nakon završenog fakulteta dugo vremena tražio posao. Nakon nekog vremena uspio je dobiti posao u poznatoj informatičkoj kompaniji. Za početak potpisao je ugovor na određeno na tri mjeseca. Veselio se što će imati priliku živjeti u Splitu iako su njegovi roditelji ostali živjeti u Osijeku. Pomno je isplanirao preseljenje, ništa nije prepustio slučaju.

Prema doseg riječ je o _____ migraciji.

Prema trajnosti riječ je o _____ migraciji.

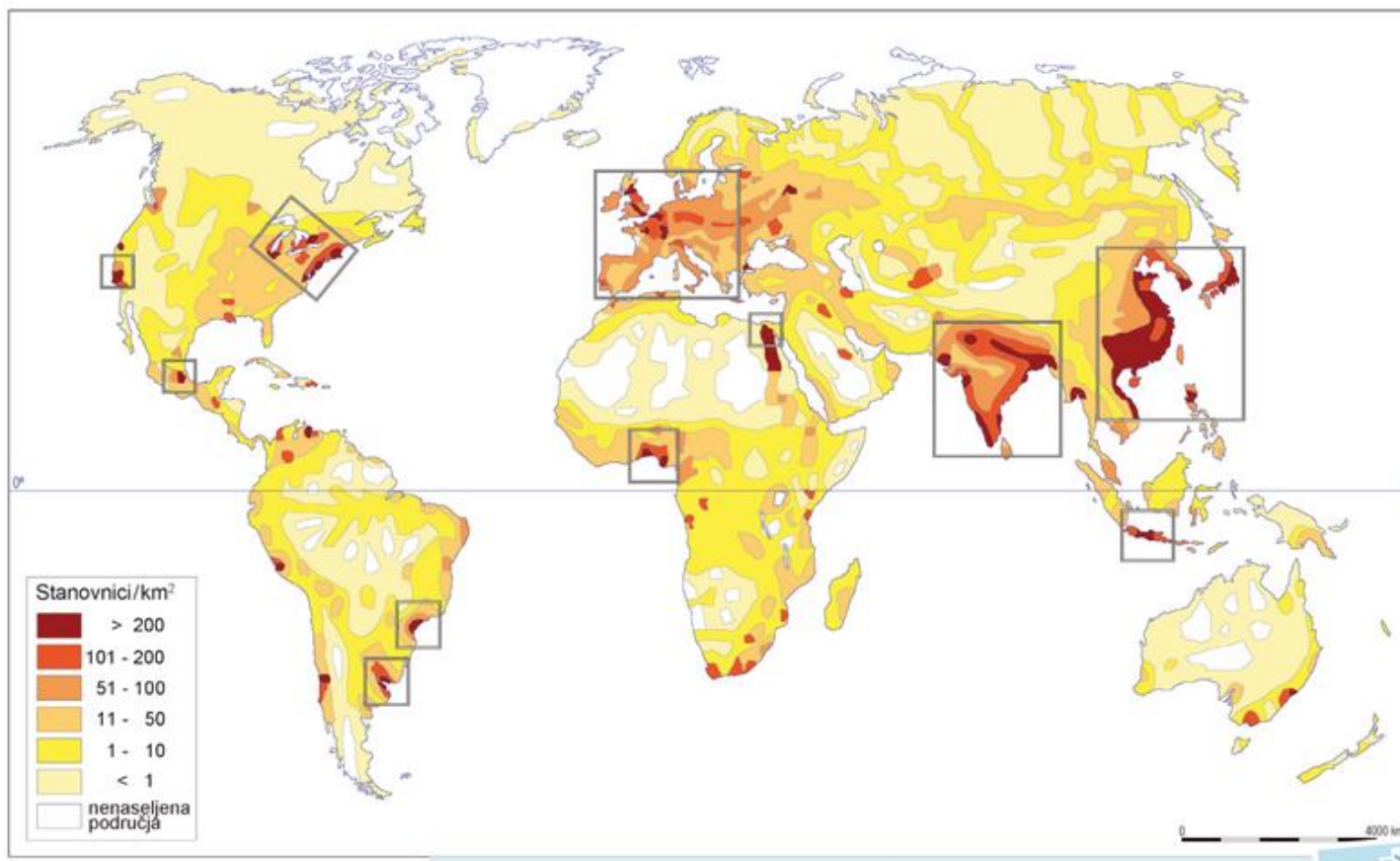
Prema uzroku riječ je o _____ migraciji.

Prema voljnosti riječ je o _____ migraciji.

Prema organiziranosti riječ je o _____ migraciji.

27. Želiš naučiti jezik s kojim ćeš se najlakše sporazumijeti u svijetu. Tečaj kojeg stranog jezika ćeš upisati?

28. Promotri priloženu tematsku kartu i navedi 4 područja najveće gustoće naseljenosti.



29. Objasni zašto je Australija rijetko naseljen kontinent.

30. Promotri priloženu tematsku kartu i navedi na kojem kontinentu ima najviše pripadnika budizma i hinduizma.

